

# DRŽAVNO NATJECANJE IZ MATEMATIKE

## 1. razred – srednja škola – A varijanta

Poreč, 29. ožujka 2019.

### Zadatak A-1.1.

Ana i Vanja stoje zajedno kraj željezničke pruge i čekaju da prođe vlak koji vozi stalnom brzinom. U trenutku kad prednji kraj vlaka dođe do njih, Ana krene stalnom brzinom u smjeru kretanja vlaka, a Vanja istom brzinom u suprotnom smjeru. Svaka od njih se zaustavlja u trenutku kad stražnji kraj vlaka prođe kraj nje. Ana je ukupno prošla 45 metara, a Vanja 30 metara. Koliko je dugačak vlak?

#### Prvo rješenje.

Uočimo, Ana je prošla  $45 - 30 = 15$  metara više od Vanje, a dok je Ana prolazila tih 15 metara, vlak je prošao  $45 + 30 = 75$  metara.

Prema tome, brzina vlaka je  $\frac{75}{15} = 5$  puta veća od brzine hoda.

Uočimo, dok je Vanja hodala 30 metara, vlak je za to vrijeme prošao  $30 \cdot 5 = 150$  metara.

Budući da je Vanja počela hodati u trenutku kad je prednji kraj vlaka prošao kraj nje, a zaustavila se kad je stražnji kraj prošao, te da je hodala u suprotnom smjeru, ukupna duljina vlaka je  $150 + 30 = 180$  metara.

#### Drugo rješenje.

U trenutku kada stražnji kraj prođe Vanju, obje su prošle jednak put od 30 metara, odnosno ukupna udaljenost između njih u tom trenutku je 60.

S druge strane, budući da su obje počele hodati u istom trenutku i istom brzinom, u trenutku kad stražnji kraj vlaka prođe Vanju, ispred Ane je prošlo  $\frac{30}{45} = \frac{2}{3}$  vlaka.

Prema tome, između njih je  $\frac{1}{3}$  vlaka, a duljina te trećine je 60 metara. Iz toga slijedi da je duljina vlaka  $3 \cdot 60 = 180$  metara.

#### Treće rješenje.

Označimo s  $l$  duljinu vlaka, s  $v$  brzinu vlaka, a s  $h$  brzinu hoda.

Ana je prošla 45 metara u  $\frac{45}{h}$  vremena. S druge strane, vlak je za to vrijeme prošao  $l + 45$  metara brzinom  $v$ , pa vrijedi

$$\frac{l + 45}{v} = \frac{45}{h}, \text{ odnosno } \frac{v}{h} = \frac{l + 45}{45}.$$

Slično, Vanja je prošla 30 metara u  $\frac{30}{h}$  vremena, a vlak je za to vrijeme prošao  $l - 30$  metara, pa vrijedi

$$\frac{l - 30}{v} = \frac{30}{h}, \text{ odnosno } \frac{v}{h} = \frac{l - 30}{30}.$$

Izjednačavanjem tih jednakosti imamo  $\frac{l + 45}{45} = \frac{l - 30}{30}$ , odakle slijedi  $l = 180$  metara.

### Zadatak A-1.2.

U pravokutnom trokutu duljine svih stranica su prirodni brojevi, a polumjer upisane kružnice iznosi 4. Odredi sve moguće vrijednosti duljina kateta tog trokuta.

#### Prvo rješenje.

Označimo katete pravokutnog trokuta s  $a$  i  $b$ , hipotenuzu s  $c$  te radijus upisane kružnice s  $r$ . Izjednačavanjem formula za površinu pravokutnog trokuta dobivamo

$$r \cdot \frac{a + b + c}{2} = P = \frac{ab}{2}$$
$$ab - 4a - 4b = 4c.$$

Kvadriranjem zadnje jednakosti, pa primjenom Pitagorinog poučka dalje slijedi

$$(ab - 4a - 4b)^2 = 16c^2$$
$$(ab - 4a - 4b)^2 = 16a^2 + 16b^2$$
$$a^2b^2 - 8a^2b - 8ab^2 + 32ab = 0$$
$$ab(ab - 8a - 8b + 32) = 0.$$

Kako su  $a$  i  $b$  stranice trokuta, moraju biti pozitivne pa zadnju jednakost možemo podijeliti s  $ab$  te dobivamo jednadžbu

$$ab - 8a - 8b + 32 = 0, \tag{1}$$

koju faktoriziranjem možemo zapisati u obliku

$$(a - 8)(b - 8) = 32.$$

Kako su  $a$  i  $b$  cjelobrojni, zaključujemo da brojevi  $a - 8$  i  $b - 8$  moraju biti djelitelji broja 32. Preostaje provjeriti 12 mogućnosti, od kojih njih 6 možemo preskočiti uz pretpostavku da je  $a$  manji od  $b$ . Dakle, promatramo mogućnosti:

$a - 8 = -32$	$a - 8 = 1$
$a - 8 = -16$	$a - 8 = 2$
$a - 8 = -8$	$a - 8 = 4$

Uvrštavanjem u početnu jednadžbu i uzimajući u obzir da  $a$  mora biti pozitivan zaključujemo da sljedeći parovi kateta zadovoljavaju uvjete zadatka

$$(9, 40), (10, 24), (12, 16), (16, 12), (24, 10), (40, 9).$$

Za svaki taj par, izračunamo  $c$  koristeći Pitagorin poučak, te provjerimo da je  $\frac{ab}{a + b + c} = 4$ .

### Drugo rješenje.

Označimo katete pravokutnog trokuta s  $a$  i  $b$ , hipotenuzu s  $c$  te radijus upisane kružnice s  $r$ . Neka su  $A', B', C'$  dirališta upisane kružnice sa stranicama  $a, b, c$ , redom te neka je  $S$  središte upisane kružnice.

Uočimo da četverokut  $CA'SB'$  ima tri prava kuta i dvije stranice jednake, jer su to radijusi upisane kružnice, pa zaključujemo da je  $CA'SB'$  kvadrat sa stranicom duljine  $r$ . Njegova površina je  $P_1 = r^2$ .

Trokuti  $AC'S$  i  $AB'S$  su sukladni (po S-S-K poučku o sukladnosti, jer su oba pravokutni, dijele hipotenuzu i oba imaju jednu katetu  $r$ ) pa je njihova ukupna površina  $P_2 = 2 \cdot \frac{r(b-r)}{2} = r(b-r)$ .

Analogno pokažemo da ukupna površina trokuta  $BC'S$  i  $BA'S$  iznosi  $P_3 = r(a-r)$ .

Za površinu trokuta  $ABC$  vrijedi  $P = P_1 + P_2 + P_3$  i formula za površinu pravokutnog trokuta je  $P = \frac{ab}{2}$ , pa izjednačavanjem dobivamo

$$\begin{aligned}\frac{ab}{2} &= r^2 + 4(a-r)r + 4(b-r)r \\ ab - 8a - 8b + 32 &= 0.\end{aligned}$$

Budući da smo dobili jednadžbu (1) dalje postupamo kao u prvom rješenju.

### Treće rješenje.

Označimo katete pravokutnog trokuta s  $a$  i  $b$ , hipotenuzu s  $c$  te radijus upisane kružnice s  $r$ . Neka su  $A', B', C'$  dirališta upisane kružnice sa stranicama  $a, b, c$ , redom te neka je  $S$  središte upisane kružnice.

Uočimo da četverokut  $CA'SB'$  ima tri prava kuta i dvije stranice jednake, jer su to radijusi upisane kružnice, pa zaključujemo da je  $CA'SB'$  kvadrat sa stranicom duljine  $r$ .

Trokuti  $AC'S$  i  $AB'S$  su sukladni (po S-S-K poučku o sukladnosti, jer su oba pravokutni, dijele hipotenuzu i oba imaju jednu katetu  $r$ ) pa je  $|AC'| = |AB'| = b - r$ .

Analogno pokažemo da su trokuti  $BC'S$  i  $BA'S$  sukladni te da vrijedi  $|BC'| = |BA'| = a - r$ .

Ovime smo pokazali da je  $c = a + b - 2r = a + b - 8$ , pa primjenom Pitagorinog poučka dobivamo

$$\begin{aligned}(a + b - 8)^2 &= a^2 + b^2 \\ 64 + 2ab - 16a - 16b &= 0 \\ ab - 8a - 8b + 32 &= 0\end{aligned}$$

Budući da smo dobili jednadžbu (1) dalje postupamo kao u prvom rješenju.

### Zadatak A-1.3.

Neka su  $a, b$  i  $c$  pozitivni realni brojevi takvi da je  $a + b + c = 1$ . Dokaži da vrijedi

$$\frac{1 + 9a^2}{1 + 2a + 2b^2 + 2c^2} + \frac{1 + 9b^2}{1 + 2b + 2c^2 + 2a^2} + \frac{1 + 9c^2}{1 + 2c + 2a^2 + 2b^2} < 4.$$

### Rješenje.

Brojevi  $a$ ,  $b$  i  $c$  su pozitivni i vrijedi  $a + b + c = 1$ , pa se svi moraju nalaziti u intervalu  $(0, 1)$ . Iz toga slijedi da je  $a^2 < a$ ,  $b^2 < b$  i  $c^2 < c$ .

Stoga je

$$\frac{1 + 9a^2}{1 + 2a + 2b^2 + 2c^2} < \frac{1 + 9a^2}{1 + 2a^2 + 2b^2 + 2c^2},$$

i analogno

$$\frac{1 + 9b^2}{1 + 2b + 2c^2 + 2a^2} < \frac{1 + 9b^2}{1 + 2a^2 + 2b^2 + 2c^2} \quad \text{i} \quad \frac{1 + 9c^2}{1 + 2c + 2a^2 + 2b^2} < \frac{1 + 9c^2}{1 + 2a^2 + 2b^2 + 2c^2}.$$

Uz oznaku  $S = a^2 + b^2 + c^2$ , zbrajanjem gornjih nejednakosti dobijemo

$$\frac{1 + 9a^2}{1 + 2a + 2b^2 + 2c^2} + \frac{1 + 9b^2}{1 + 2b + 2c^2 + 2a^2} + \frac{1 + 9c^2}{1 + 2c + 2a^2 + 2b^2} < \frac{3 + 9S}{1 + 2S}. \quad (2)$$

Budući da je  $S = a^2 + b^2 + c^2 < a + b + c = 1$ , slijedi

$$\frac{3 + 9S}{1 + 2S} < \frac{4 + 8S}{1 + 2S} = 4. \quad (3)$$

Konačno, iz (2) i (3) slijedi tražena nejednakost.

### Zadatak A-1.4.

Neka je  $k > 1$  prirodan broj. Dano je  $k + 2$  međusobno različitih prirodnih brojeva manjih od  $3k + 1$ . Dokaži da među njima postoje dva čija je razlika veća od  $k$  i manja od  $2k$ .

#### Prvo rješenje.

Označimo sa  $S$  skup odabranih  $k + 2$  brojeva. Bez smanjenja općenitosti možemo pretpostaviti da je 1 u skupu  $S$ . Zaista, ako se broj 1 ne nalazi u skupu  $S$ , svim elementima iz  $S$  možemo oduzeti vrijednost najmanjeg elementa skupa  $S$  i dodati 1, pritom će razlika između svaka dva elementa ostati sačuvana.

Ako se u skupu  $S$  nalazi barem jedan broj  $b$  iz skupa  $\{k + 2, k + 3, \dots, 2k\}$ , onda za brojeve 1 i  $b$  vrijedi tvrdnja zadatka.

Pretpostavimo zato da niti jedan od brojeva  $k + 2, k + 3, \dots, 2k$  nije u  $S$ . Sve brojeve od 2 do  $3k + 1$  možemo podijeliti u  $k$  parova  $(2, 2k + 1), \dots, (k + 1, 3k)$ . Osim broja 1, u skupu  $S$  nalazi se još  $k + 1$  brojeva, pa prema Dirichletovom principu postoji par koji sadrži dva broja iz  $S$ . Ta dva broja zadovoljavaju tvrdnju zadatka.

## Drugo rješenje.

Zapišimo odabrane brojeve u uzlaznom poretku, neka su to  $1 \leq a_1 < a_2 < \dots < a_{k+2} \leq 3k$ . Tada vrijedi  $a_{k+2} - a_1 > k$ . Ako je  $a_{k+2} - a_1 < 2k$ , onda su  $a_1$  i  $a_{k+2}$  traženi brojevi. Stoga pretpostavimo da je  $a_{k+2} - a_1 \geq 2k$ .

Neka je  $i$  najveći indeks takav da vrijedi  $a_{k+2} - a_i \geq 2k$ .

Uočimo da vrijedi  $a_{j+1} - a_j \leq 2k - 1$  za svaki indeks  $j = 1, 2, \dots, k + 1$ . U suprotnom, zbog  $a_j \geq j$  i  $a_{k+2} \geq a_{j+1} + (k + 2 - j - 1)$  vrijedilo bi

$$a_{k+2} \geq a_{j+1} + (k + 2 - j - 1) > a_j + 2k - 1 + (k + 2 - j - 1) \geq 3k,$$

što je nemoguće.

Posebno, vrijedi  $a_{k+2} - a_{k+1} \leq 2k - 1$ , iz čega slijedi  $i < k + 1$ .

Također, prema definiciji indeksa  $i$  vrijedi  $a_{k+2} - a_{i+1} < 2k$ . Ako je  $a_{k+2} - a_{i+1} > k$ , onda su  $a_{k+2}$  i  $a_{i+1}$  traženi brojevi.

Pretpostavimo zato da je  $a_{k+2} - a_{i+1} \leq k$ . U tom slučaju, zbog  $a_{k+2} - a_i \geq 2k$  slijedi  $a_{i+1} - a_i \geq k$ . Ako je  $a_{i+1} - a_i > k$ . Tada, zbog  $a_{i+1} - a_i \leq 2k - 1 < 2k$  vrijedi da su  $a_{i+1}$  i  $a_i$  traženi brojevi.

Ako je  $a_{i+1} - a_i = k$ , onda imamo

$$k \geq a_{k+2} - a_{i+1} = a_{k+2} - a_i - k \geq 2k - k = k,$$

pa slijedi  $a_{k+2} - a_{i+1} = k$ .

Pretpostavimo da vrijedi  $i < k$ . Tada postoji  $\ell$  takav da je  $i + 1 < \ell < k + 2$ . Tada je  $a_\ell - a_i > a_{i+1} - a_i = k$  i  $a_\ell - a_i < a_{k+2} - a_i \leq 2k$ , pa su  $a_i$  i  $a_\ell$  traženi brojevi.

Ako vrijedi  $i + 1 = k + 1$ , tada je  $a_{k+2} - a_{k+1} = k$  i  $a_{k+2} - a_k = 2k$ . Budući da je  $a_k + 2k = a_{k+2} \leq 3k$ , tj.  $a_k \leq k$ , a vrijedi i  $a_k \geq k$ , zaključujemo da je  $a_k = k$ . Sada je  $1 \leq a_1 < a_2 < \dots < a_k = k$ , pa mora biti  $a_j = j$  za sve  $j = 1, 2, \dots, k$ . Također, vrijedi  $a_{k+1} = 2k$  i  $a_{k+2} = 3k$ . Sada su traženi brojevi, na primjer,  $a_1$  i  $a_{k+1}$ .

U svim slučajevima smo pronašli traženi par brojeva, pa je time tvrdnja zadatka dokazana.

## Zadatak A-1.5.

U jednakokračnom trokutu  $ABC$  vrijedi  $|AB| = |AC|$  i  $\sphericalangle BAC < 60^\circ$ . Neka je točka  $D$  na dužini  $\overline{AC}$  takva da je  $\sphericalangle DBC = \sphericalangle BAC$ , neka je  $E$  sjecište simetrale dužine  $\overline{BD}$  i paralele s  $BC$  kroz točku  $A$  te neka je  $F$  točka na pravcu  $AC$  takva da se  $A$  nalazi između  $C$  i  $F$  i vrijedi  $|AF| = 2|AC|$ .

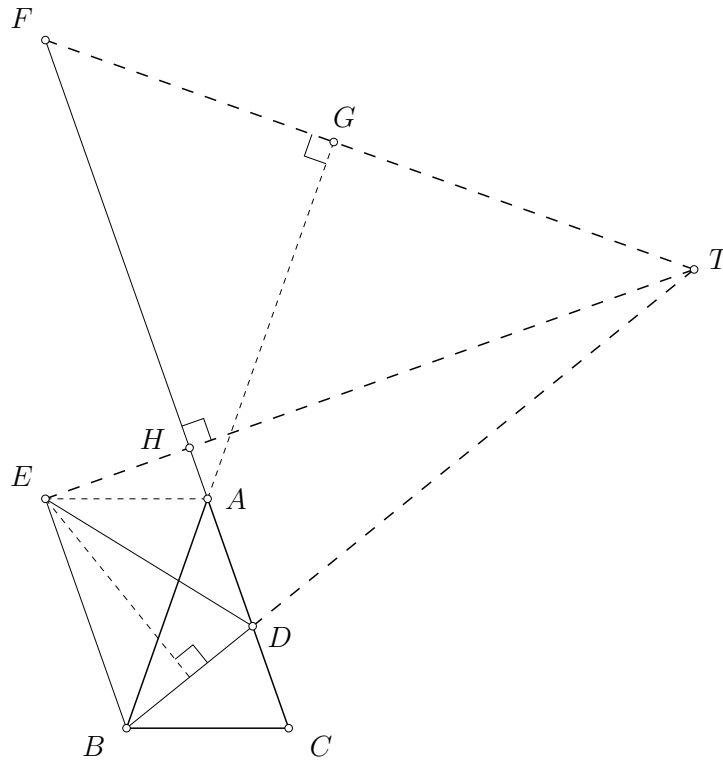
(a) Dokaži da su pravci  $BE$  i  $AC$  paralelni.

(b) Dokaži da se okomica iz  $F$  na  $AB$  i okomica iz  $E$  na  $AC$  sijeku na pravcu  $BD$ .

*U (b) dijelu zadatka dozvoljeno je korištenje tvrdnje iz (a) čak i ako nije dokazana.*

**Prvo rješenje.**

- (a) Budući da je  $\sphericalangle DBC = \sphericalangle BAC$ , te  $\sphericalangle BCD = \sphericalangle BCA$ , trokuti  $BDC$  i  $ABC$  su slični. Slijedi da je  $|BD| = |BC|$ . Neka je  $\alpha = \sphericalangle BAC = \sphericalangle CBD$  i  $\beta = \sphericalangle CBA = \sphericalangle DCB$ . Neka je točka  $E'$  takva da je  $AE'BC$  paralelogram. Slijedi da je  $\sphericalangle ABE' = \sphericalangle BAC = \sphericalangle CBD$ , pa je  $\sphericalangle ABC = \sphericalangle CBD + \sphericalangle ABD = \sphericalangle ABE' + \sphericalangle ABD = \sphericalangle E'BD$ . Budući da je i  $|BE'| = |AC|$ , po S-K-S poučku, slijedi da su trokuti  $E'BD$  i  $ABC$  sukladni. Dakle, trokut  $E'BD$  je jednakokračan, pa  $E'$  leži na simetrali stranice  $\overline{BD}$ . Budući da su točke  $E$  i  $E'$  obje na paraleli kroz točku  $A$  s  $BC$ , zaključujemo da se podudaraju. Dakle,  $AEBC$  je paralelogram i pravci  $AC$  i  $BE$  su paralelni.



- (b) Neka je  $P$  polovište dužine  $\overline{BC}$ . Budući da je prema (a) dijelu  $AEBC$  paralelogram, slijedi da je  $|BC| = |AE|$ . Zato je  $|AE| : |CP| = 2 : 1 = |AF| : |CA|$ . Prema S-K-S teoremu slijedi da su trokuti  $CAP$  i  $AFE$  slični. Zato je  $\sphericalangle DFE = \frac{1}{2}\sphericalangle BAC$ . Budući da je polovište u jednakokračnom trokutu ujedno i nožište visine, vrijedi  $\sphericalangle APC = 90^\circ$ . pa je i  $\sphericalangle AEF = 90^\circ$ .

Neka je  $G$  nožište okomice iz  $F$  na pravac  $AB$ , a  $H$  nožište okomice iz  $E$  na pravac  $AC$ . Neka je točka  $T$  presjek pravaca  $EH$  i  $FG$ . Treba pokazati da  $T$  leži na  $BD$ .

Prema dokazu (a) dijela trokuti  $EBD$  i  $ABC$  su slični, pa vrijedi

$$\sphericalangle ADE = 180^\circ - \sphericalangle BDE - \sphericalangle BDC = 180^\circ - \sphericalangle ACB - \sphericalangle ABC = \sphericalangle BAC.$$

Uočimo da je

$$\sphericalangle DFT = 90^\circ - \sphericalangle FAG = 90^\circ - \sphericalangle BAC = 90^\circ - \sphericalangle ADE = \sphericalangle DEH = \sphericalangle DET.$$

Dakle,  $DEFT$  je tetivni četverokut, pa je  $\sphericalangle DTE = \sphericalangle DFE = \frac{1}{2}\sphericalangle BAC$ .

Slijedi da je  $\sphericalangle TDH = 90^\circ - \frac{1}{2}\sphericalangle BAC$ , dok je  $\sphericalangle BDH = 90^\circ + \frac{1}{2}\sphericalangle BAC$ , pa su  $B, D, T$  kolinearne točke.

**Napomena:** Alternativno, možemo uvesti točku  $E'$  na paraleli s  $BC$  kroz  $A$  tako da je  $AE'BD$  tetivni četverokut. Tada je  $\sphericalangle BDE' = \sphericalangle BAE' = \sphericalangle ABC$  i  $\sphericalangle BE'D = \sphericalangle BAD = \sphericalangle BAC$ . Dakle, trokut  $E'BD$  ima iste kutove kao  $ABC$ . Dakle, točka  $E'$  leži na simetrali dužine  $\overline{BD}$ , pa je  $E = E'$ . Sada slijedi da je  $\sphericalangle EBC = \sphericalangle EBD + \sphericalangle DBC = \sphericalangle ABC + \sphericalangle BAC = 180^\circ - \sphericalangle BCD$ , pa je  $AEBC$  paralelogram, tj. pravci  $AC$  i  $BE$  su paralelni.

### Drugo rješenje.

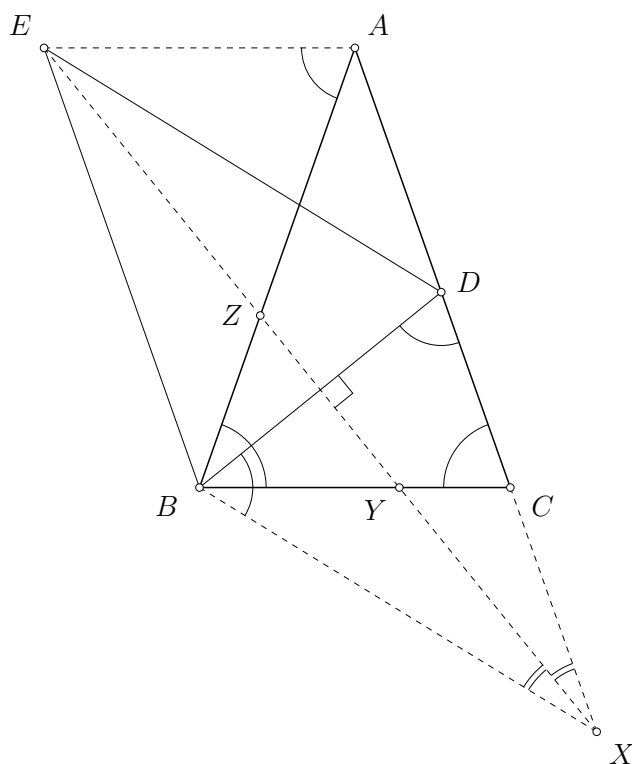
(a) Neka je  $O$  ortocentar trokuta  $ABC$ . Uočimo da je  $O$  ujedno i središte opisane kružnice trokuta  $BCD$ . Primjetimo da je zbog obodnog i središnjeg kuta  $\sphericalangle EOB = \frac{1}{2}\sphericalangle DOB = \sphericalangle DCB = \sphericalangle EAB}$  iz čega slijedi da je četverokut  $AEBO$  tetivan. Iz toga dobivamo da je  $\sphericalangle AEB = 180^\circ - \sphericalangle AOB = \sphericalangle ACB}$  gdje zadnja jednakost vrijedi jer je  $O$  ortocentar trokuta  $ABC$ . A kako je  $AE \parallel BC}$  dobivamo traženu tvrdnju.

(b) Kao u prvom rješenju.

### Treće rješenje.

(a) Neka je  $a = |BC| = |BD|$ ,  $b = |AB| = |AC|$ ,  $\alpha = \sphericalangle BAC = \sphericalangle CBD}$  i  $\beta = \sphericalangle CBA = \sphericalangle DCB = \sphericalangle BDC}$ . Tada je  $\sphericalangle DBA = \sphericalangle CBA - \sphericalangle CBD = \beta - \alpha}$ .

Neka je  $X$  točka na polupravcu  $AC}$  takva da je  $\sphericalangle XBC = \sphericalangle DBA = \beta - \alpha}$ . Tada je  $\sphericalangle XBD = \sphericalangle XBC + \sphericalangle CBD = \beta = \sphericalangle BDX}$ . Budući da je  $|BD| = |BC|$ , jednakokračni trokuti  $XBD$  i  $ABC}$  su sukladni i vrijedi  $|XD| = |XB| = b}$ .



Jednakokračni trokuti  $ABC}$  i  $BCD}$  su slični, pa je  $|AC| : |BD| = |BC| : |CD|$ , odakle dobivamo  $|CD| = \frac{a^2}{b}$ . Sada zaključujemo da je

$$|XC| = |XD| - |CD| = b - \frac{a^2}{b} = \frac{b^2 - a^2}{b}.$$

Jednakokrani trokuti  $EBD$  i  $XBD$  imaju zajedničku osnovicu  $\overline{BD}$ , stoga je njezina simetrala  $XE$  ujedno i simetrala kuta  $\sphericalangle DXB$ .

Označimo s  $Y$  i  $Z$  redom točke u kojima pravac  $XE$  siječe dužine  $\overline{BC}$  i  $\overline{AB}$ .

Prema poučku o simetrali kuta u trokutu  $XBC$  imamo:

$$\frac{b^2}{b^2 - a^2} = \frac{|XB|}{|XC|} = \frac{|YB|}{|YC|} = \frac{|YB|}{|BC| - |YB|} = \frac{|YB|}{a - |YB|},$$

pa je  $|YB| = \frac{ab^2}{2b^2 - a^2}$ .

Nadalje, prema poučku o simetrali kuta u trokutu  $XBA$  imamo:

$$\frac{|ZB|}{|ZA|} = \frac{|XB|}{|XA|} = \frac{|XB|}{|XC| + |CA|} = \frac{b}{\frac{b^2 - a^2}{b} + b} = \frac{b^2}{2b^2 - a^2}.$$

Budući da je  $AB$  presječnica paralelnih pravaca  $AE$  i  $BC$ , trokuti  $AEZ$  i  $BYZ$  su slični, te je  $|AE| : |BY| = |AZ| : |BZ|$ , odakle je

$$|AE| = \frac{|AZ|}{|BZ|} \cdot |BY| = \frac{2b^2 - a^2}{b^2} \cdot \frac{ab^2}{2b^2 - a^2} = a = |BC|.$$

Zato je četverokut  $BCAE$  paralelogram, odnosno  $BE \parallel CA$ .

(b) Kao u prvom rješenju.



# DRŽAVNO NATJECANJE IZ MATEMATIKE

## 2. razred – srednja škola – A varijanta

Poreč, 29. ožujka 2019.

### Zadatak A-2.1.

Odredi sve kompleksne brojeve  $a$  za koje su svi koeficijenti polinoma

$$P(x) = (x - a)(x - a^2)(x - a^3)$$

realni.

### Prvo rješenje.

Svaki realni broj  $a$  zadovoljava traženi uvjet, stoga pretpostavimo nadalje da  $a$  nije realan broj.

Ako je  $z$  nultočka polinoma s realnim koeficijentima, tada je i  $\bar{z}$  nultočka tog polinoma. Budući da je polinom  $P(x)$  trećeg stupnja, mora imati barem jednu realnu nultočku, pa zato imamo samo dva slučaja: ili je  $\bar{a} = a^2$  ili je  $\bar{a} = a^3$ .

Ako je  $\bar{a} = a^2$ , onda je  $|a| = |a|^2$ , pa budući da je  $a \neq 0$  slijedi  $|a| = 1$ . Nadalje, dobivamo  $a^3 = a^2 \cdot a = \bar{a} \cdot a = |a|^2 = 1$ . Za takve  $a$  imamo

$$\bar{a} = a^3 \bar{a} = a^2 |a|^2 = a^2.$$

Dakle, brojevi  $a$  i  $a^2$  čine konjugirano kompleksni par, a  $a^3 = 1$  je realan broj, pa zaključujemo da polinom  $P(x)$  ima realne koeficijente. Iz  $a^3 = 1$  slijedi  $(a - 1)(a^2 + a + 1) = 0$ , a kako  $a$  nije realni broj, vrijedi  $a^2 + a + 1 = 0$ . Rješenja te jednadžbe su

$$a = \frac{-1 + i\sqrt{3}}{2} \quad \text{i} \quad a = \frac{-1 - i\sqrt{3}}{2}.$$

Ako je  $\bar{a} = a^3$ , na sličan način pokazujemo da vrijedi  $a^4 = 1$ . Odavde je  $a = \pm i$ , budući da realna rješenja ne promatramo. Direktnom provjerom vidimo da obje mogućnosti za  $a$  zadovoljavaju uvjete zadatka:

$$P(x) = (x \mp i)(x + 1)(x \pm i) = (x^2 + 1)(x + 1) = x^3 + x^2 + x + 1.$$

Dakle, svi kompleksni brojevi koji zadovoljavaju traženi uvjet su svi realni brojevi  $a$  te

$$a \in \left\{ i, -i, \frac{-1 + i\sqrt{3}}{2}, \frac{-1 - i\sqrt{3}}{2} \right\}.$$

## Drugo rješenje.

Kao u prvom rješenju, svi realni brojevi su rješenja pa pretpostavimo da  $a$  nije realan broj.

Neka je  $P(x) = x^3 + Ax^2 + Bx + C$ , računamo:

$$A = -a - a^2 - a^3 = -a(1 + a + a^2),$$

$$B = a^3 + a^4 + a^5 = a^3(1 + a + a^2),$$

$$C = -a^6.$$

Ako je  $A = 0$ , onda je  $1 + a + a^2 = 0$  jer  $a$  nije realni broj. Istom provjerom kao u prvom rješenju, dolazimo do zaključka da su oba kompleksna treća korijena iz jedinice rješenja. Oni iznose

$$\frac{-1 + i\sqrt{3}}{2} \quad \text{i} \quad \frac{-1 - i\sqrt{3}}{2}.$$

Ako  $A \neq 0$ , onda je  $a^2 = -\frac{B}{A}$  realni broj. Tada iz  $A = -a - a^2 - a^3$  dobivamo

$$A + a^2 = -a \cdot (1 + a^2).$$

Ako  $a^2 \neq -1$ , tada iz gornje jednakosti vidimo i da je  $a$  realan broj kao omjer dva takva, što je suprotno pretpostavci. Dakle,  $a^2 = -1$ , pa je  $a = \pm i$ . Direktom provjerom kao u prvom rješenju vidimo da obje mogućnosti za  $a$  zadovoljavaju uvjete zadatka.

Dakle, svi kompleksni brojevi koji zadovoljavaju traženi uvjet su svi realni brojevi  $a$  te

$$a \in \left\{ i, -i, \frac{-1 + i\sqrt{3}}{2}, \frac{-1 - i\sqrt{3}}{2} \right\}.$$

## Zadatak A-2.2.

Odredi sve realne brojeve  $x$  za koje vrijedi

$$\left\lfloor \frac{x^2 + 1}{x + 2} \right\rfloor + \left\lfloor \frac{x - 1}{2} \right\rfloor = \frac{x(3x + 1)}{2(x + 2)}.$$

Za realni broj  $t$ ,  $\lfloor t \rfloor$  je najveći cijeli broj koji nije veći od  $t$ .

Na primjer, ako je  $t = 3.14$ , onda je  $\lfloor t \rfloor = 3$ .

## Rješenje.

Prema definiciji funkcije najveće cijelo, za sve realne  $t$  vrijedi  $\lfloor t \rfloor \leq t$ , pri čemu se jednakost postiže ako i samo ako je  $t$  cijeli broj.

Zato je

$$\left\lfloor \frac{x^2 + 1}{x + 2} \right\rfloor \leq \frac{x^2 + 1}{x + 2} \quad \text{i} \quad \left\lfloor \frac{x - 1}{2} \right\rfloor \leq \frac{x - 1}{2}.$$

Zbrajanjem tih nejednakosti dobivamo:

$$\frac{x(3x + 1)}{2(x + 2)} = \left\lfloor \frac{x^2 + 1}{x + 2} \right\rfloor + \left\lfloor \frac{x - 1}{2} \right\rfloor \leq \frac{x^2 + 1}{x + 2} + \frac{x - 1}{2} = \frac{x(3x + 1)}{2(x + 2)}.$$

Dakle, obje gornje nejednakosti moraju biti jednakosti pa su zato  $\frac{x^2 + 1}{x + 2}$  i  $\frac{x - 1}{2}$  cijeli brojevi. Drugi razlomak je cijeli broj ako i samo ako je  $x$  neparan cijeli broj.

Prvi razlomak zapišimo kao:

$$\frac{x^2 + 1}{x + 2} = x - 2 + \frac{5}{x + 2}.$$

Kako je  $x$  cijeli broj, nužno je i dovoljno da  $\frac{5}{x+2}$  bude cijeli broj. Zato je  $x + 2 \in \{1, -1, 5, -5\}$ , odnosno  $x \in \{-1, -3, 3, -7\}$ .

### Zadatak A-2.3.

Neka je  $ABC$  trokut takav da je  $3|BC| = |AB| + |CA|$ . Neka je  $T$  točka na stranici  $\overline{AC}$  takva da je  $4|AT| = |AC|$  i neka su  $K$  i  $L$  točke na stranicama  $\overline{AB}$  i  $\overline{CA}$  redom, takve da je  $KL \parallel BC$  i da je pravac  $KL$  tangenta upisane kružnice trokuta  $ABC$ .

U kojem omjeru dužina  $\overline{BT}$  dijeli dužinu  $\overline{KL}$  ?

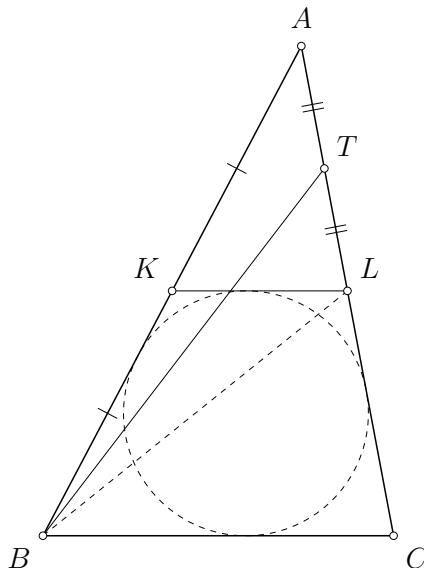
### Rješenje.

Označimo s  $v$  duljinu visine trokuta  $ABC$  iz vrha  $A$ , a s  $r$  polumjer upisane kružnice. Površinu trokuta  $ABC$  tada možemo izraziti na dva načina:

$$r \cdot \frac{|AB| + |BC| + |CA|}{2} = P = \frac{v \cdot |BC|}{2}.$$

Iskoristimo li uvjet  $3|BC| = |AB| + |CA|$  iz zadatka u gornjoj jednakosti, dobivamo  $4r = v$ .

Udaljenost pravaca  $KL$  i  $BC$  je  $2r$ , pa zaključujemo da visina iz vrha  $A$  u trokutu  $AKL$  ima duljinu  $v - 2r = 4r - 2r = 2r$ .



Budući da su pravci  $KL$  i  $BC$  paralelni, trokuti  $AKL$  i  $ABC$  imaju iste kutove, pa su slični. Omjer duljina visina iz vrha  $A$  u tim trokutima je  $4r : 2r = 2 : 1$ , pa je  $|KL| = \frac{1}{2}|BC|$ , tj.  $\overline{KL}$  je srednjica trokuta  $ABC$ . Dakle,  $K$  i  $L$  su redom polovišta dužina  $\overline{AB}$  i  $\overline{AC}$ .

Budući da je  $|AT| = \frac{1}{4}|AC| = \frac{1}{2}|AL|$ , zaključujemo da je  $T$  polovište dužine  $\overline{AL}$ . To znači da su  $\overline{BT}$  i  $\overline{KL}$  težišnice trokuta  $ABL$ , pa dužina  $\overline{BT}$  dijeli dužinu  $\overline{KL}$  u omjeru  $1 : 2$ .

### Zadatak A-2.4.

Odredi sve parove  $(m, n)$  cijelih brojeva za koje vrijedi  $m^2 = n^5 + n^4 + 1$ , a broj  $m - 7n$  dijeli  $m - 4n$ .

#### Prvo rješenje.

Uočimo da vrijedi  $n^5 + n^4 + 1 = (n^3 - n + 1)(n^2 + n + 1)$ , stoga imamo

$$m^2 = (n^3 - n + 1)(n^2 + n + 1).$$

Izračunajmo najveći zajednički djelitelj izraza u zagradama:

$$\begin{aligned} M(n^3 - n + 1, n^2 + n + 1) &= M(n^3 - n + 1 - n(n^2 + n + 1), n^2 + n + 1) \\ &= M(-n^2 - 2n + 1, n^2 + n + 1) \\ &= M(-n^2 - 2n + 1 + (n^2 + n + 1), n^2 + n + 1) \\ &= M(-n + 2, n^2 + n + 1) \\ &= M(-n + 2, n^2 + n + 1 + n(-n + 2)) \\ &= M(-n + 2, 3n + 1) \\ &= M(-n + 2, 3n + 1 + 3(-n + 2)) \\ &= M(-n + 2, 7) \end{aligned}$$

Zaključujemo da je najveći zajednički djelitelj  $d$  brojeva  $n^3 - n + 1$  i  $n^2 + n + 1$  jednak 1 ili 7, stoga imamo dva slučaja.

Ako je  $d = 7$ , onda iz jednakosti  $m^2 = (n^3 - n + 1)(n^2 + n + 1)$  slijedi da je i  $m$  djeljiv sa 7. Nadalje, iz  $d = M(-n + 2, 7)$ , vidimo da je  $d = 7$  samo ako  $n$  daje ostatak 2 pri dijeljenju sa 7. Dakle,  $n$  nije djeljiv sa 7. Prema uvjetu zadatka,

$$\frac{m - 4n}{m - 7n} = 1 + \frac{3n}{m - 7n}$$

mora biti cijeli broj. Zaključujemo da  $m - 7n$  dijeli  $3n$ , no to je nemoguće jer je  $m - 7n$  djeljiv sa 7, a  $3n$  nije. Zato u slučaju  $d = 7$  nema rješenja.

Ako je  $d = 1$ , onda jednakost  $m^2 = (n^3 - n + 1)(n^2 + n + 1)$  daje faktorizaciju potpunog kvadrata  $m^2$  na relativno proste faktore  $n^3 - n + 1$  i  $n^2 + n + 1$ . Budući da su faktori relativno prosti, svaki od njih mora biti kvadrat cijelog broja.

Posebno,  $n^2 + n + 1$  je kvadrat cijelog broja. Ovo očito vrijedi za  $n = -1, 0$ . Pokažimo da za preostale cijele brojeve  $n$  ovo nije istina. Doista, za sve prirodne brojeve  $n$  vrijede nejednakosti

$$n^2 < n^2 + n + 1 < (n + 1)^2.$$

Analogni zaključak dobivamo za  $n < -1$  koristeći nejednakosti  $(n + 1)^2 < n^2 + n + 1 < n^2$  koje vrijede za sve cijele brojeve  $n < -1$ .

Time smo pokazali da su jedine mogućnosti  $n = -1$  i  $n = 0$ . Za  $n = -1$  iz početnog uvjeta dobivamo  $m^2 = -1$ , pa ovaj slučaj odbacujemo. Za  $n = 0$  dobivamo  $m^2 = 1$ , to jest  $m = -1$  ili  $m = 1$ .

Za  $n = 0$  i  $m \neq 0$  vidimo da  $m - 7n$  dijeli  $m - 4n$ , pa su konačna rješenja parovi

$$(m, n) = (-1, 0), \quad \text{i} \quad (m, n) = (1, 0).$$

## Drugo rješenje.

Pogledajmo prvo jednadžbu  $m^2 = n^5 + n^4 + 1$ . U slučaju  $n \leq -2$  imamo

$$m^2 = n^5 + n^4 + 1 = n(1 + n^4) + 1 \leq n \cdot 1 + 1 \leq -1 < 0,$$

što nije moguće jer je kvadrat cijelog broja nužno nenegativan broj. Dakle, nužno je  $n \geq -1$ . Za  $n = -1$ , dobivamo da je  $m = 1$  ili  $m = -1$ , no tada broj  $m - 4n$  nije djeljiv s  $m - 7n$ .

Za  $n = 0$  je također  $m = 1$  ili  $m = -1$ , te oba para zadovoljavaju i prvi uvjet u zadatku.

Od sada promatramo slučaj  $n \geq 1$ . Iz drugog uvjeta u zadatku zaključujemo i da je broj

$$\frac{3n}{m - 7n} = \frac{m - 4n}{m - 7n} - 1$$

cijeli. Kako brojnik nije jednak nuli,  $m - 7n$  je djelitelj od broja  $3n$ . Budući da je  $m - 7n$  djelitelj broja  $3n$  (koji nije 0), mora vrijediti  $|m - 7n| \leq 3n$ , iz čega dalje slijedi

$$-3n \leq m - 7n \leq 3n, \quad \text{tj.} \quad 4n \leq m \leq 10n.$$

Odavde prvo zaključujemo da je  $m \geq 0$ , a onda da je  $(10n)^2 \geq m^2$ , tj.

$$100n^2 \geq m^2 = n^5 + n^4 + 1 \geq n^5.$$

Iz toga slijedi  $n^3 \leq 100$ , tj.  $n \leq 4$ . Direktnim uvrštavanjem vrijednosti  $n = 1, 2, 3, 4$  u izraz  $n^5 + n^4 + 1$  dobivamo vrijednosti 3, 49, 325, 1281, od kojih je samo 49 potpun kvadrat. U tom slučaju imamo  $(m, n) = (7, 2)$ , no direktnom provjerom vidimo da broj

$$\frac{m - 4n}{m - 7n} = \frac{1}{7}$$

nije cijeli.

Konačno, jedini takvi parovi brojeva  $(m, n)$  su  $(-1, 0)$  i  $(1, 0)$ .

## Zadatak A-2.5.

Ukrug je napisano 299 nula i jedna jedinica. Dozvoljeni su sljedeći potezi:

- svakom broju istovremeno oduzeti njemu oba susjedna broja;
- odabrati dva broja između kojih se nalaze točno dva broja te ih oba uvećati ili oba umanjiti za 1.

Može li se konačnim nizom dozvoljenih poteza postići da ukруг budu napisane

- dvije uzastopne jedinice i 298 nula?
- tri uzastopne jedinice i 297 nula?

## Rješenje.

Analizirat ćemo što se događa s određenim zbrojevima brojeva pri primjeni poteza. Označimo s  $a_k$  brojeve koji su zapisani u nekom trenutku, i to tako da je  $a_1$  na onom mjestu u krugu na kojem se na početku nalazi jedinica, te  $a_2, \dots, a_{300}$  označavaju redom brojeve u smjeru kazaljke na satu. Nakon primjene prvog poteza dobivamo brojeve

$$\begin{aligned}b_1 &= a_1 - a_{300} - a_2, \\b_k &= a_k - a_{k-1} - a_{k+1}, \quad k = 2, \dots, 299, \\b_{300} &= a_{300} - a_{299} - a_1.\end{aligned}$$

- (a) Promotrimo kako se mijenja zbroj svih napisanih brojeva kad primjenjujemo dozvoljene poteze. Ako ukupni zbroj brojeva  $a_k$  iznosi

$$S = a_1 + a_2 + \dots + a_{300},$$

onda zbroj brojeva  $b_k$  iznosi

$$a_1 - a_{300} - a_2 + a_2 - a_1 - a_3 + \dots + a_{300} - a_{299} - a_1 = -S$$

jer svaki broj  $a_k$  jednom pribrojimo i dvaput oduzmemo.

Nakon primjene drugog poteza zbroj svih brojeva će biti  $S + 2$  ili  $S - 2$ . Zaključujemo da se primjenom dozvoljenih poteza ne može promijeniti parnost zbroja svih brojeva. Budući da je na početku zbroj svih brojeva 1 (neparan broj), nije moguće postići da budu zapisane dvije jedinice i 298 nula jer bi tada zbroj svih brojeva bio 2 (paran broj).

- (b) Promotrimo kako se mijenja alternirajući zbroj napisanih brojeva. Ako alternirajući zbroj brojeva  $a_k$  iznosi

$$S' = a_1 - a_2 + a_3 - \dots + a_{299} - a_{300},$$

onda će nakon primjene prvog poteza alternirajući zbroj svih brojeva  $b_k$  biti

$$a_1 - a_{300} - a_2 - a_2 + a_1 + a_3 + \dots - a_{300} + a_{299} + a_1 = 3S',$$

dok će nakon primjene drugog poteza alternirajući zbroj svih napisanih brojeva ostati  $S'$ . Pretpostavimo da je moguće postići da budu napisane tri uzastopne jedinice i 297 nula. Na početku je alternirajući zbroj svih brojeva 1, a kad bi bile zapisane tri uzastopne jedinice i 297 nula alternirajući zbroj svih brojeva bi iznosio ili 1 ili  $-1$ , ovisno o tome na kojim mjestima se nalaze jedinice. Budući da se dozvoljenim potezima alternirajući zbroj ili utrostručuje ili ostaje isti, zaključujemo da tri jedinice moraju biti na mjestima tako da je alternirajući zbroj 1 te da ne smijemo koristiti prvi potez.

Promotrimo zbroj brojeva na mjestima 3, 6, ..., 300, tj.

$$S_0 = a_3 + a_6 + \dots + a_{300}.$$

Na početku je taj zbroj 0, a kad bi bile zapisane tri uzastopne jedinice i 297 nula taj bi zbroj iznosio 1. No, primjenom samo drugog poteza parnost tog zbroja se ne mijenja jer ili ne mijenjamo nijedan od brojeva  $a_3, a_6, \dots, a_{300}$  ili mijenjamo točno dva broja za 1. Kako 0 i 1 nisu iste parnosti, to pokazuje da dozvoljenim potezima nije moguće postići da budu napisane tri uzastopne jedinice i 297 nula.

# DRŽAVNO NATJECANJE IZ MATEMATIKE

## 3. razred – srednja škola – A varijanta

Poreč, 29. ožujka 2019.

### Zadatak A-3.1.

Dan je trokut  $ABC$  takav da je  $|AB| = 4$ ,  $|BC| = 7$ ,  $|AC| = 5$ . Označimo  $\alpha = \sphericalangle BAC$ .

Izračunaj

$$\sin^6 \frac{\alpha}{2} + \cos^6 \frac{\alpha}{2}.$$

### Prvo rješenje.

Primijetimo da je

$$\begin{aligned} \sin^6 \frac{\alpha}{2} + \cos^6 \frac{\alpha}{2} &= \left( \sin^2 \frac{\alpha}{2} + \cos^2 \frac{\alpha}{2} \right) \left( \sin^4 \frac{\alpha}{2} - \sin^2 \frac{\alpha}{2} \cos^2 \frac{\alpha}{2} + \cos^4 \frac{\alpha}{2} \right) \\ &= \left( \sin^2 \frac{\alpha}{2} + \cos^2 \frac{\alpha}{2} \right)^2 - 3 \sin^2 \frac{\alpha}{2} \cos^2 \frac{\alpha}{2} \\ &= 1 - \frac{3}{4} \sin^2 \alpha \\ &= \frac{1}{4} + \frac{3}{4} \cos^2 \alpha \end{aligned}$$

Primjenom poučka o kosinusu na trokut  $ABC$  dobivamo

$$\cos \alpha = \frac{|AB|^2 + |AC|^2 - |BC|^2}{2|AC| \cdot |AB|} = \frac{16 + 25 - 49}{2 \cdot 5 \cdot 4} = -\frac{1}{5}.$$

Stoga je  $\sin^6 \frac{\alpha}{2} + \cos^6 \frac{\alpha}{2} = \frac{1}{4} + \frac{3}{4} \cdot \frac{1}{25} = \frac{7}{25}$ .

### Drugo rješenje.

Kao u prvom rješenju, dobivamo  $\cos \alpha = -\frac{1}{5}$ .

Budući da je  $\cos^2 \frac{\alpha}{2} = \frac{1 - \cos \alpha}{2}$  i  $\sin^2 \frac{\alpha}{2} = \frac{1 + \cos \alpha}{2}$ , vrijedi  $\cos^2 \frac{\alpha}{2} = \frac{3}{5}$  i  $\sin^2 \frac{\alpha}{2} = \frac{2}{5}$ .

Slijedi  $\sin^6 \frac{\alpha}{2} + \cos^6 \frac{\alpha}{2} = \frac{27}{125} + \frac{8}{125} = \frac{7}{25}$ .

### Zadatak A-3.2.

Četvorku prirodnih brojeva  $(a, b, c, d)$  zovemo *zelenom* ako vrijedi

$$b = a^2 + 1, \quad c = b^2 + 1, \quad d = c^2 + 1$$

i  $D(a) + D(b) + D(c) + D(d)$  je neparan, pri čemu je  $D(k)$  broj pozitivnih djelitelja prirodnog broja  $k$ .

Koliko ima zelenih četvorki čiji su svi članovi manji od 1 000 000 ?

### Rješenje.

Prirodni broj ima neparno mnogo djelitelja ako i samo ako je kvadrat nekog prirodnog broja.

Za prirodni broj  $m$  vrijedi

$$m^2 < m^2 + 1 < m^2 + 2m + 1 = (m + 1)^2,$$

pa  $m^2 + 1$  nije potpun kvadrat. Dakle  $b$ ,  $c$ ,  $d$  nisu potpuni kvadrati, pa imaju paran broj djelitelja. Iz uvjeta zadatka slijedi da  $a$  ima neparan broj djelitelja, pa  $a$  mora biti potpun kvadrat. Kako je  $a < b < c < d$ , svi članovi su manji od  $10^6$  ako i samo ako je  $d < 10^6$ .

Imamo niz nejednakosti

$$10^6 > d = c^2 + 1 > c^2 = (b^2 + 1)^2 > b^4 = (a^2 + 1)^4 > a^8.$$

Stoga mora biti  $a^8 < 10^6$ . Zbog  $10^6 = 1000^3 < 1024^3 = 2^{20} < 2^{24} = 8^8$ , zaključujemo da je  $a < 8$ . Jedini kvadrati manji od 8 su 1 i 4.

Direktnom provjerom zaključujemo da su obje četvorke (1, 2, 5, 26) i (4, 17, 290, 84101) zelene. Dakle, postoje dvije takve zelene četvorke.

**Napomena:** Tvrdnju da je broj kvadrat prirodnog broja ako i samo ako ima neparan broj djelitelja učenik ne treba dokazivati. Slijedi jednostavan dokaz te tvrdnje. Sve djelitelje broja  $n$  možemo grupirati u parove pri čemu je djelitelj  $d$  u paru s  $\frac{n}{d}$ , osim ako je  $n = k^2$  za neki prirodan broj  $k$  (tada je  $k$  u paru sam sa sobom).

### Zadatak A-3.3.

Na ploču dimenzija  $20 \times 19$  postavljene su pločice dimenzija  $3 \times 1$  tako da prekrivaju točno tri polja ploče, a međusobno se ne preklapaju i ne dodiruju, čak ni u vrhovima.

Odredi najveći mogući broj pločica  $3 \times 1$  na toj ploči.

### Rješenje.

Promatramo vrhove jediničnih kvadrata. Svaki pravokutnik  $3 \times 1$  pokriva točno 8 vrhova.

Primijetimo da, kako god bio okrenut, pravokutnik  $3 \times 1$  pokriva paran broj vrhova u svakom vertikalnom nizu.


Budući da je u svakom vertikalnom nizu 21 vrh, moguće je pokriti najviše 20 vrhova.

Vertikalnih nizova vrhova ima 20, pa ćemo ukupno moći pokriti najviše  $20 \cdot 20 = 400$  vrhova.

To znači da na ploču možemo postaviti najviše  $\frac{400}{8} = 50$  pravokutnika  $3 \times 1$ .



Primjerom pokazujemo da zbilja možemo postaviti 50 pravokutnika:



#### Zadatak A-3.4.

Neka su  $a$ ,  $b$  i  $c$  pozitivni realni brojevi takvi da je  $a + b + c = 3$ . Dokaži da vrijedi

$$\frac{a^2 + 6}{2a^2 + 2b^2 + 2c^2 + 2a - 1} + \frac{b^2 + 6}{2a^2 + 2b^2 + 2c^2 + 2b - 1} + \frac{c^2 + 6}{2a^2 + 2b^2 + 2c^2 + 2c - 1} \leq 3.$$

#### Rješenje.

Vrijedi

$$\begin{aligned} \frac{a^2 + 6}{2a^2 + b^2 + c^2 + b^2 + c^2 + 2a - 1} &\leq \frac{a^2 + 6}{2a^2 + b^2 + c^2 + 2bc + 2a - 1} \\ &= \frac{a^2 + 6}{2a^2 + (b + c)^2 + 2a - 1} \\ &= \frac{a^2 + 6}{2a^2 + (3 - a)^2 + 2a - 1} \\ &= \frac{a^2 + 6}{3a^2 - 4a + 8} \\ &= \frac{a^2 + 6}{a^2 + 6 + 2(a - 1)^2} \leq 1. \end{aligned}$$

Analogno se pokaže da su i druga dva pribrojnika također manja od ili jednaka 1, iz čega slijedi tvrdnja zadatka.

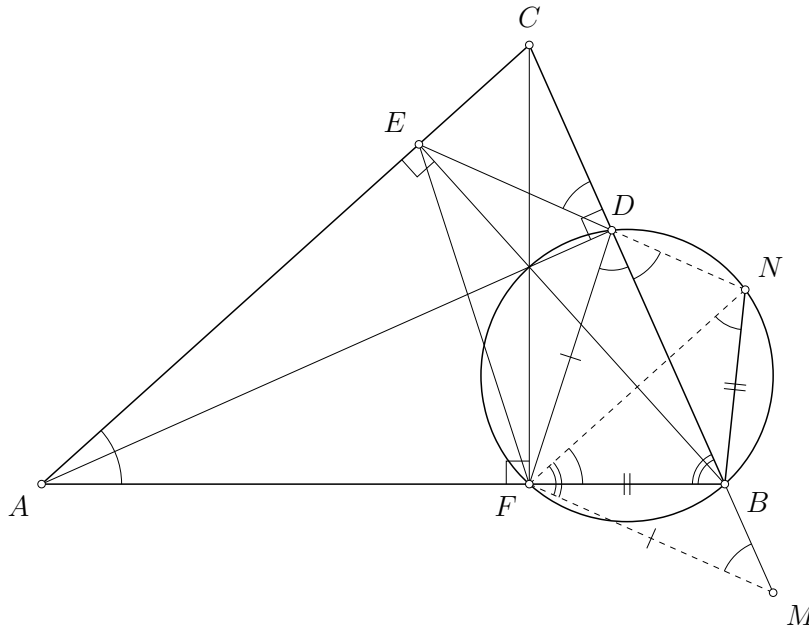
### Zadatak A-3.5.

Dan je šiljastokutan trokut  $ABC$  takav da je  $|BC| < |CA| < |AB|$ . Neka su  $D$ ,  $E$  i  $F$  redom nožišta njegovih visina iz vrhova  $A$ ,  $B$  i  $C$ . Pravac točkom  $F$  paralelan s  $DE$  siječe pravac  $BC$  u točki  $M$ , a simetrala kuta  $\sphericalangle MFE$  siječe pravac  $DE$  u točki  $N$ .

Dokaži da je točka  $F$  središte kružnice opisane trokutu  $DMN$  ako i samo ako je točka  $B$  središte kružnice opisane trokutu  $FMN$ .

### Rješenje.

Koristeći uobičajene oznake za veličine kutova trokuta  $ABC$ , iz uvjeta zadatka je  $\alpha < \beta < \gamma$ .



Kutovi  $\sphericalangle ADB$  i  $\sphericalangle AEB$  su pravi pa je četverokut  $ABDE$  tetivan, i vrijedi  $\sphericalangle CDE = \sphericalangle BAE = \alpha$ . Analogno, tetivni su i četverokuti  $BCEF$  i  $CAFD$ , pa je  $\sphericalangle BFE = 180^\circ - \sphericalangle ECB = 180^\circ - \gamma$ ,  $\sphericalangle BFD = \sphericalangle ACD = \gamma$  i  $\sphericalangle FDB = \sphericalangle FAC = \alpha$ .

S obzirom na to da je  $FM \parallel DE$ , vrijedi  $\sphericalangle BMF = \sphericalangle CDE = \alpha$ , pa je  $\sphericalangle MFB = \sphericalangle CBF - \sphericalangle BMF = \beta - \alpha$ . Budući da je  $\sphericalangle MFE = \sphericalangle MFB + \sphericalangle BFE = (\beta - \alpha) + (180^\circ - \gamma) = 2\beta$ , odnosno  $\sphericalangle MFN = \beta$ , imamo

$$\sphericalangle BFN = \sphericalangle MFN - \sphericalangle MFB = \alpha < \gamma = \sphericalangle BFD,$$

zbog čega se točka  $N$  nalazi izvan trokuta  $ABC$ .

Zato je  $\sphericalangle BDN = \sphericalangle CDE = \alpha = \sphericalangle BFN$ , a četverokut  $BNDF$  je tetivan.

Nadalje je  $\sphericalangle FNB = \sphericalangle FDB = \alpha$ , i primjećujemo da su trokuti  $FMD$  i  $BNF$  jednakokračni, stoga vrijedi  $|FM| = |FD|$  i  $|BN| = |BF|$ .

Sljedećim nizom ekvivalencija dovršavamo dokaz:

$F$  je središte kružnice opisane trokutu  $DMN$

$$\iff \sphericalangle MFN = 2\sphericalangle MDN$$

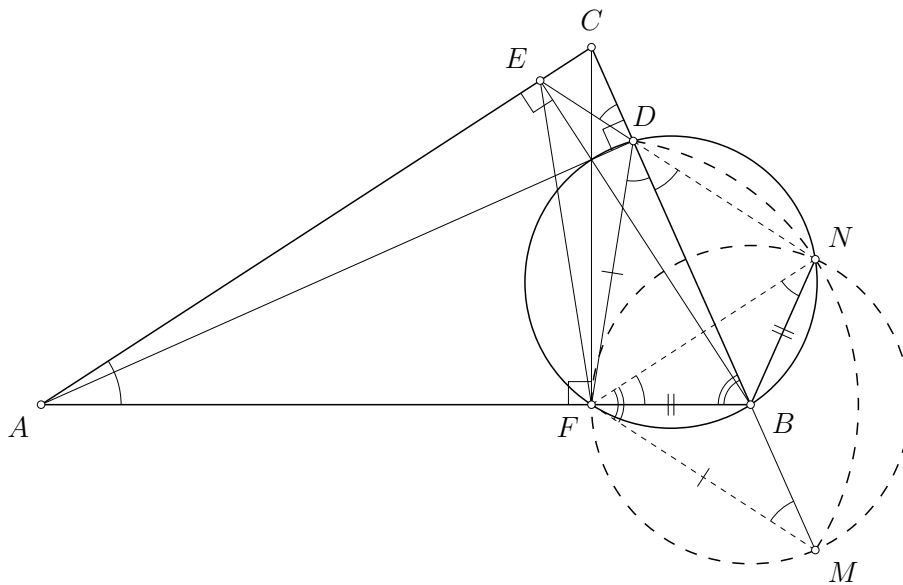
$$\iff \beta = 2\alpha$$

$$\iff \beta - \alpha = \alpha$$

$$\iff \sphericalangle MFB = \sphericalangle BMF$$

$$\iff |BM| = |BF|$$

$\iff B$  je središte kružnice opisane trokutu  $FMN$ .



# DRŽAVNO NATJECANJE IZ MATEMATIKE

## 4. razred – srednja škola – A varijanta

Poreč, 29. ožujka 2019.

### Zadatak A-4.1.

Odredi sve kompleksne brojeve  $a$  za koje su svi koeficijenti polinoma

$$P(x) = (x - a)(x - a^2)(x - a^3)(x - a^4)$$

realni.

### Prvo rješenje.

Svaki realni broj  $a$  zadovoljava traženi uvjet, stoga pretpostavimo nadalje da  $a$  nije realan broj.

Neka je  $z$  kompleksan broj koji nije realan. Ako je  $z$  nultočka polinoma s realnim koeficijentima, tada je i  $\bar{z}$  nultočka. Zato imamo jedan od tri slučaja:  $\bar{a} = a^2$ ,  $\bar{a} = a^3$  ili  $\bar{a} = a^4$ .

Ako je  $\bar{a} = a^2$ , onda je  $|a| = |a|^2$ , pa budući da je  $a \neq 0$  slijedi  $|a| = 1$ . Nadalje, dobivamo  $a^3 = a^2 \cdot a = \bar{a} \cdot a = |a|^2 = 1$ . Zato je  $a^3$  realna nultočka polinoma  $P(x)$  pa mora biti i  $a^4$  budući da ni s kojom drugom nultočkom ne može činiti kompleksno konjugirani par. Zato je i  $a = \frac{a^4}{a^3}$  realan broj, kontradikcija.

Ako je  $\bar{a} = a^3$ , na sličan način pokazujemo da vrijedi  $a^4 = 1$ . Odavde je  $a = \pm i$ , budući da realna rješenja ne promatramo. Direktnom provjerom vidimo da obje mogućnosti za  $a$  zadovoljavaju uvjete zadatka

$$P(x) = (x \mp i)(x + 1)(x \pm i)(x - 1) = (x^2 + 1)(x^2 - 1) = x^4 - 1.$$

Ako je  $\bar{a} = a^4$ , na sličan način pokazujemo da vrijedi  $a^5 = 1$ . Rješenja koja nisu realna su

$$a = \cos\left(\frac{2k\pi}{5}\right) + i \sin\left(\frac{2k\pi}{5}\right), \quad k = 1, 2, 3, 4.$$

Primijetimo da iz činjenice da je  $a^5 = 1$  slijedi

$$\bar{a}^2 = a^5 \bar{a}^2 = a^3 a^2 \bar{a}^2 = a^3 |a|^4 = a^3.$$

Dakle, za svaki kompleksan broj  $a$ , koji nije realan, takav da je  $a^5 = 1$ , brojevi  $a^2$  i  $a^3$  također čine kompleksno konjugirani par. Kako su parovi  $(a, a^4)$  i  $(a^2, a^3)$  kompleksno konjugirani, zaključujemo da polinom  $P(x)$  ima realne koeficijente.

Konačno, svi kompleksni brojevi koji zadovoljavaju traženi uvjet su svi realni brojevi  $a$  te

$$a \in \{i, -i\} \cup \left\{ \cos\left(\frac{2k\pi}{5}\right) + i \sin\left(\frac{2k\pi}{5}\right) : k = 1, 2, 3, 4 \right\}.$$

## Drugo rješenje.

Kao i u prvom rješenju, pretpostavimo da  $a$  nije realan broj.

Neka je  $P(x) = x^4 + Ax^3 + Bx^2 + Cx + D$ , računamo:

$$\begin{aligned}A &= -a - a^2 - a^3 - a^4 = -a(1+a)(1+a^2), \\B &= a^3 + a^4 + a^5 + a^5 + a^6 + a^7 = a^3(1+a^2)(1+a+a^2), \\C &= -a^6 - a^7 - a^8 - a^9 = a^5 A, \\D &= a^{10}.\end{aligned}$$

Ako je  $A = 0$ , onda je  $a = \pm i$  i svi su koeficijenti realni, tj.  $\pm i$  također zadovoljavaju uvjete.

Ako  $A \neq 0$ , onda je  $a^5 = \frac{C}{A}$  realan broj. Vidimo da to znači i da je  $D = (a^5)^2$  realan, stoga moramo odrediti kompleksne brojeve  $a$  takve da su brojevi

$$a^5, \quad A = -a(1+a)(1+a^2), \quad B' = B - 2a^5 = a^3 + a^4 + a^6 + a^7 = a^3(1+a)(1+a^3)$$

realni. Kako je  $A \neq 0$ , ovo znači da je broj

$$1 + \frac{B'}{A} = 1 - \frac{a^2 + a^5}{1 + a^2} = -\frac{a^5 - 1}{1 + a^2}$$

realan. Ukoliko je  $a^5 \neq 1$ , onda je  $1 + a^2$  realan, pa i  $a^2$ , a zato je i  $a = \frac{a^5}{(a^2)^2}$  realan, suprotno pretpostavci. Dakle, zaključujemo da je  $a^5 = 1$ , tj.

$$a = \cos\left(\frac{2k\pi}{5}\right) + i \sin\left(\frac{2k\pi}{5}\right), \quad k = 1, 2, 3, 4.$$

Sada imamo

$$0 = a^5 - 1 = (a - 1)(1 + a + a^2 + a^3 + a^4),$$

što zbog  $a \neq 1$  daje da je druga zagrada jednaka nuli. Zato je  $A = 1$ ,  $B' = -1$ , te  $B = B' + 2a^5 = 1$ . Dakle, svi koeficijenti polinoma  $P(x)$  su realni.

Konačno, svi kompleksni brojevi koji zadovoljavaju traženi uvjet su svi realni brojevi  $a$  te

$$a \in \{i, -i\} \cup \left\{ \cos\left(\frac{2k\pi}{5}\right) + i \sin\left(\frac{2k\pi}{5}\right) : k = 1, 2, 3, 4 \right\}.$$

## Zadatak A-4.2.

Rudi i Miljen igraju igru na školskoj ploči naizmjenice odigravajući poteze. Igrač koji je na potezu bira dva relativno prosta broja napisana na ploči, briše ih te zapisuje na ploču njihov zbroj. Gubi igrač koji to ne može napraviti. Igru započinje Rudi. Dokaži da Miljen ima pobjedničku strategiju ako je na početku na ploči bilo napisano

- (a) 2019 jedinica;
- (b) 2020 jedinica.

## Rješenje.

- (a) Tvrdimo da Miljen može postići da nakon svakog njegovog poteza na ploči bude zapisan neki neparan broj  $n$  i parno mnogo jedinica, točnije, njih  $2019 - n$ . Tada nakon 1009 Miljenovih poteza na ploči ostaje samo broj 2019 te Rudi ne može napraviti potez, tj. Miljen pobjeđuje.

Na početku ploča izgleda upravo kako je opisano, zapravo je  $n = 1$ . Rudi može izbrisati dvije jedinice i na ploču zapisati broj 2, tada Miljen izbriše brojeve  $n$  i 2, što može jer je broj  $n$  neparan, te na ploču zapiše broj  $n + 2$ . Miljen time ploču dovodi u željeno stanje. Jedina druga opcija koju Rudi ima je izbrisati broj  $n$  i jednu jedinicu te zapisati broj  $n + 1$ . No, tada Miljen izbriše broj  $n + 1$  i još jednu jedinicu, što sigurno može jer je u tom trenutku neparan broj jedinica na ploči, te zapiše broj  $n + 2$ .

Dakle, upravo opisana strategija Miljenu donosi sigurnu pobjedu.

- (b) U ovom slučaju Miljen koristi istu strategiju kao u (a), osim u svom zadnjem potezu. Naime, nakon svakog Miljenovog poteza je na ploči neparan broj  $n$  i neparan broj jedinica, točnije, njih  $2020 - n$ . Preostaje samo opisati Miljenov zadnji potez, tj. njegov 1009. potez.

Ukoliko su nakon Rudijevog 1009. poteza na ploči napisani brojevi 2018, 1 i 1, onda Miljen izbriše te dvije jedinice i zapiše na ploču broj 2. Rudi tada više ne može napraviti potez, jer brojevi 2018 i 2 nisu relativno prosti, tj. Miljen pobjeđuje.

Ako su nakon Rudijevog 1009. poteza na ploči napisani brojevi 2017, 2 i 1, onda Miljen izbriše brojeve 2017 i 1 te na ploču zapiše broj 2018. Dakle, Miljen opet pobjeđuje.

## Zadatak A-4.3.

Neka je  $C$  realni broj,  $(a_n)$  niz realnih brojeva i neka je, za svaki prirodni broj  $n$ ,

$$M_n = \frac{a_1 + a_2 + \cdots + a_n}{n}.$$

Ako za svaka tri međusobno različita prirodna broja  $i, j, k$  vrijedi

$$(i - j)M_k + (j - k)M_i + (k - i)M_j = C,$$

dokaži da je niz  $(a_n)$  aritmetički.

## Prvo rješenje.

Uvrštavanjem  $(i, j, k) = (1, 2, 3)$  i  $(i, j, k) = (2, 1, 3)$  dobivamo da je

$$-M_3 - M_1 + 2M_2 = C = M_3 - 2M_2 + M_1,$$

tj.  $C = -C$ , odnosno  $C = 0$ . Uvrstimo sada  $(i, j, k) = (n, n + 1, n + 2)$  pa je

$$M_{n+1} = \frac{M_n + M_{n+2}}{2},$$

za svaki prirodni broj  $n$ , što znači da je niz  $(M_n)$  aritmetički. Dakle, postoje realni brojevi  $m$  i  $d$  takvi da je

$$M_n = m + nd,$$

za svaki prirodni broj  $n$ . Tada je

$$a_n = nM_n - (n - 1)M_{n-1} = m + (n^2 - (n - 1)^2)d = (m - d) + n(2d),$$

tj. niz  $(a_n)$  je također aritmetički.

### Drugo rješenje.

Kao u prvom rješenju dobivamo da je  $C = 0$  i

$$2M_{i+1} = M_i + M_{i+2}, \quad (4)$$

za svaki prirodni broj  $i$ .

Uvrštavanjem  $i = 1$  u (4) dobivamo

$$a_2 = \frac{a_1 + a_3}{2},$$

tj. niz  $a_1, a_2, a_3$  je aritmetički.

Pretpostavimo da je niz  $a_1, a_2, \dots, a_n$  aritmetički, za neki prirodni broj  $n \geq 3$ . To znači da postoje realni brojevi  $a$  i  $d$  takvi da je  $a_\ell = a + \ell d$ , za svaki  $\ell \in \{1, 2, \dots, n\}$ .

Za iste te  $\ell$  vrijedi

$$M_\ell = \frac{(a + 1 \cdot d) + (a + 2 \cdot d) + \dots + (a + \ell \cdot d)}{\ell} = a + \frac{\ell + 1}{2}d.$$

Uvrstimo sada  $i = n - 1$  u (4)

$$M_{n+1} = 2M_n - M_{n-1} = 2\left(a + \frac{n+1}{2}d\right) - \left(a + \frac{n}{2}d\right) = a + \frac{n+2}{2}d.$$

Sada je

$$a_{n+1} = (n+1)M_{n+1} - nM_n = a + \frac{(n+1)(n+2) - n(n+1)}{2}d = a + (n+1)d,$$

tj. i niz  $a_1, a_2, \dots, a_n, a_{n+1}$  je aritmetički.

Po principu matematičke indukcije tvrdnja zadatka je dokazana.

### Treće rješenje.

Kao u prvom rješenju dobivamo da je  $C = 0$ . Definirajmo  $d := a_2 - a_1$ . Očito za  $n = 1, 2$  vrijedi

$$a_n = a_1 + (n-1)d,$$

a uvrštavanjem  $(i, j, k) = (1, 2, 3)$  i sređivanjem dobivamo da vrijedi i za  $n = 3$ . Dokazat ćemo da to vrijedi i za proizvoljan  $n \geq 4$ . Uvrstimo  $(i, j, k) = (n, 2, 1)$  i  $(i, j, k) = (n-1, 2, 1)$ , te dobijemo:

$$\begin{aligned} (n-2)M_1 + M_n - (n-1)M_2 &= 0, \\ (n-3)M_1 + M_{n-1} - (n-2)M_2 &= 0. \end{aligned}$$

Pomnožimo li prvu jednakost s  $n$  a drugu s  $(n-1)$  i izjednačimo, dobivamo:

$$n(n-2)M_1 + nM_n - n(n-1)M_2 = (n-1)(n-3)M_1 + (n-1)M_{n-1} - (n-1)(n-2)M_2.$$

Korištenjem  $a_n = nM_n - (n-1)M_{n-1}$ ,  $M_1 = a_1$  i  $M_2 = \frac{d}{2} + a_1$  i sređivanjem, dobivamo

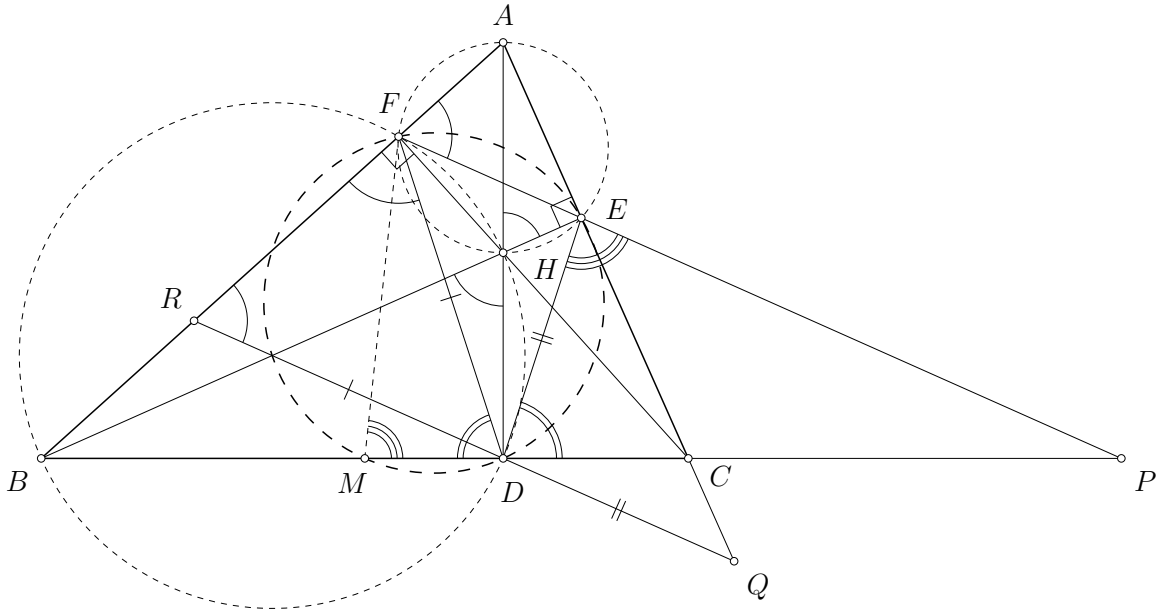
$$\begin{aligned} a_n &= [-n(n-2) + n(n-1) + (n-1)(n-3) - (n-1)(n-2)]a_1 \\ &\quad + [n(n-1) - (n-1)(n-2)]\frac{d}{2} \\ &= [n - (n-1)]a_1 + 2(n-1)\frac{d}{2} = a_1 + (n-1)d. \end{aligned}$$

Kako gornja jednakost vrijedi za sve  $n \geq 4$ , pa onda i za sve prirodne  $n$ , zaključujemo da je niz  $(a_n)$  aritmetički s prvim članom  $a_1$  i korakom  $d = a_2 - a_1$ .

#### Zadatak A-4.4.

Neka je  $ABC$  šiljastokutan trokut takav da je  $|AB| > |AC|$ . Neka su  $D$ ,  $E$  i  $F$  nožišta visina trokuta  $ABC$  iz vrhova  $A$ ,  $B$  i  $C$ , redom. Pravci  $EF$  i  $BC$  sijeku se u točki  $P$ . Paralela s  $EF$  kroz točku  $D$  siječe pravac  $AC$  u točki  $Q$  i pravac  $AB$  u točki  $R$ . Ako je  $N$  točka na stranici  $\overline{BC}$  takva da je  $\sphericalangle NQP + \sphericalangle NRP < 180^\circ$ , dokaži da je  $|BN| > |CN|$ .

#### Prvo rješenje.



Trokut  $ABC$  je šiljastokutan pa se točke  $D$ ,  $E$  i  $F$  nalaze, redom, na stranicama  $\overline{BC}$ ,  $\overline{CA}$ ,  $\overline{AB}$ . Vrijedi da je  $|AB| > |AC|$ , stoga je  $|BD| > |CD|$ .

Dakle,  $\sphericalangle ACB > \sphericalangle ABC$  pa točka  $P$  leži na produžetku stranice  $\overline{BC}$  preko vrha  $C$ . Točka  $Q$  leži na produžetku stranice  $\overline{AC}$  preko vrha  $C$ , a točka  $R$  na dužini  $\overline{BF}$ .

Neka je točka  $H$  ortocentar trokuta  $ABC$ , a točka  $M$  polovište stranice  $\overline{BC}$ .

Pravci  $DR$  i  $EF$  su paralelni pa je  $\sphericalangle DRF = \sphericalangle EFA$ . Četverokut  $AFHE$  je tetivan ( $\sphericalangle AFH = \sphericalangle AEH = 90^\circ$ ) pa je  $\sphericalangle EFA = \sphericalangle EHA$ . Nadalje, četverokut  $BDHF$  je također tetivan ( $\sphericalangle BDH = \sphericalangle BFH = 90^\circ$ ) pa je  $\sphericalangle EHA = \sphericalangle DHB = \sphericalangle DFB = \sphericalangle DFR$ . Dakle, u trokutu  $DFR$  je  $\sphericalangle DRF = \sphericalangle DFR$ , tj.  $|DR| = |DF|$ .

Slično, pravci  $DQ$  i  $FE$  su paralelni pa je  $\sphericalangle DQE = \sphericalangle FEA$ , četverokut  $AFHE$  je tetivan pa je  $\sphericalangle FEA = \sphericalangle FHA$ . Četverokut  $CEHD$  je također tetivan ( $\sphericalangle CEH = \sphericalangle CDH = 90^\circ$ ) pa je  $\sphericalangle FHA = \sphericalangle DHC = \sphericalangle DEC = \sphericalangle DEQ$ . Stoga u trokutu  $DQE$  vrijedi  $\sphericalangle DQE = \sphericalangle DEQ$ , odnosno  $|DQ| = |DE|$ .

Točke  $M$ ,  $F$ ,  $E$  i  $D$  leže na Feuerbachovoj kružnici trokuta  $ABC$ , stoga je četverokut  $MFED$  tetivan. Zato je  $\sphericalangle FMD = 180^\circ - \sphericalangle FED = \sphericalangle PED$ .

Nadalje je  $\sphericalangle FDH = \sphericalangle FBH = \sphericalangle ABE = 90^\circ - \sphericalangle CAB = \sphericalangle ACF = \sphericalangle ECH = \sphericalangle EDH$ .

Zato je  $\sphericalangle FDM = 90^\circ - \sphericalangle FDH = 90^\circ - \sphericalangle EDH = \sphericalangle PDE$ . Dakle, trokuti  $FDM$  i  $PDE$  su slični. Zaključujemo da je

$$\frac{|DF|}{|DM|} = \frac{|DP|}{|DE|},$$



iskoristimo da je  $|DF| = |DR|$  i  $|DE| = |DQ|$  pa je

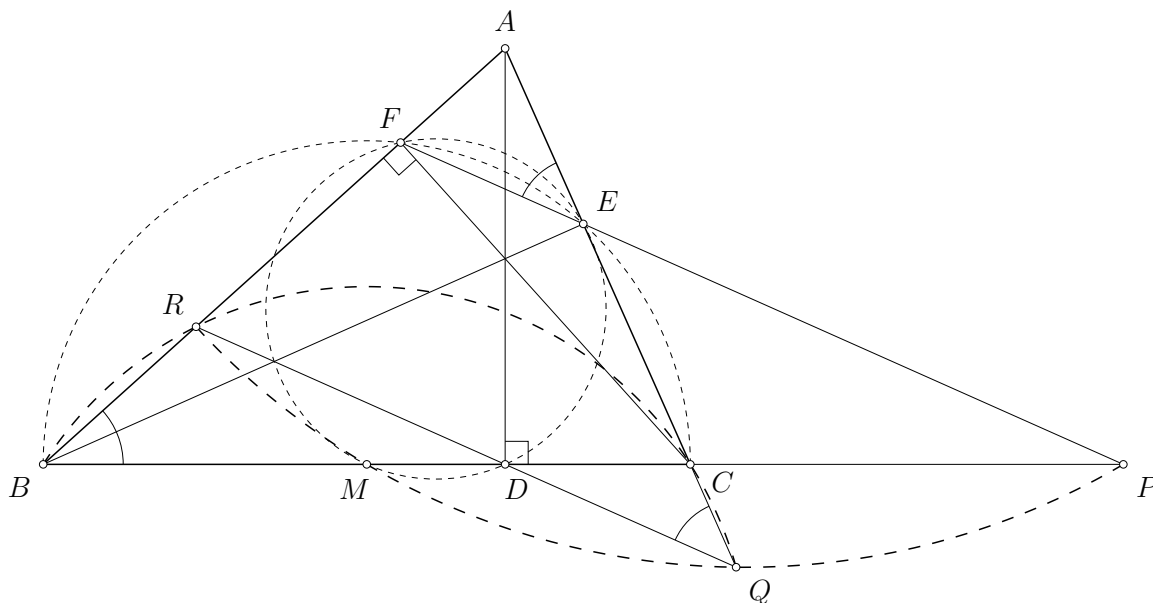
$$|DR| \cdot |DQ| = |DP| \cdot |DM|.$$

Dakle, četverokut  $PQMR$  je tetivan. Neka je  $k$  četverokutu  $PQMR$  opisana kružnica.

Kako je  $\sphericalangle NQP + \sphericalangle NRP < 180^\circ$ , točka  $N$  se nalazi unutar kružnice  $k$ , tj. na dužini  $\overline{CM}$  i pri tome je  $N \neq M$ . Točka  $M$  je polovište stranice  $\overline{BC}$  pa je  $|BN| > |CN|$ .

### Drugo rješenje.

Uz iste oznake kao u prvom rješenju, na drugi način dokažimo da je četverokut  $PQMR$  tetivan.



Kao u prošlom rješenju izvedemo zaključke o pozicijama točaka  $P$ ,  $Q$  i  $R$  na pravcima  $BC$ ,  $AC$  i  $AB$ . Također, zbog  $|BD| > |DC|$ , zaključujemo da se  $M$  nalazi na dužini  $\overline{BD}$ .

Uočimo da je četverokut  $ECBF$  tetivan jer je  $\sphericalangle CEB = \sphericalangle CFB = 90^\circ$ . Također, četverokut  $MDEF$  je također tetivan jer mu sva četiri vrha leže na Feuerbachovoj kružnici trokuta  $ABC$ . Promatrajući potenciju točke  $P$  u odnosu na te dvije kružnice, dobivamo

$$|PC| \cdot |PB| = |PE| \cdot |PF| = |PD| \cdot |PM|.$$

Oдавde dobivamo

$$\begin{aligned} |DC| \cdot |DB| &= |DC| \cdot (|PB| - |DP|) = |DC| \cdot |PB| - |DC| \cdot |DP| \\ &= (|DP| - |PC|) \cdot |PB| - (|MC| - |DM|) \cdot |DP| \\ &= |DP| \cdot |PB| - |PC| \cdot |PB| - |MC| \cdot |DP| + |DM| \cdot |DP| \\ &= |DP| \cdot |PB| - |DP| \cdot |PM| - |MB| \cdot |DP| + |DM| \cdot |DP| \\ &= |DP| \cdot (|PB| - |PM| - |MB|) + |DM| \cdot |DP| = |DM| \cdot |DP|. \end{aligned}$$

Nadalje, tetivnost četverokuta  $ECBF$  i paralelni pravci  $EF$  i  $QR$  nam daju i sljedeće:

$$\sphericalangle RQC = \sphericalangle FEA = 180^\circ - \sphericalangle CEF = \sphericalangle FBC = \sphericalangle RBC,$$

odakle zaključujemo i da je četverokut  $QCRB$  tetivan. Potencija točke  $D$  na tu kružnicu daje

$$|DC| \cdot |DB| = |DR| \cdot |DQ|.$$

Dva dobivena rezultata zajedno daju

$$|DR| \cdot |DQ| = |DC| \cdot |DB| = |DM| \cdot |DP|,$$

pa iz obrata poučka o potenciji točke zaključujemo da je  $PQMR$  tetivan.

Rješenje dovršavamo kao u prvom rješenju.

**Napomena:** Relacija  $|PC| \cdot |PB| = |PD| \cdot |PM|$  umjesto iz Feuerbachove kružnice može se dobiti i primjenom Menelajevog teorema na pravac  $EF$  i Cevinog teorema na visine trokuta  $ABC$ .

### Zadatak A-4.5.

Odredi sve funkcije  $f: \mathbb{N} \times \mathbb{N} \rightarrow \mathbb{N}$  koje zadovoljavaju sljedeća dva uvjeta.

- Za sve  $a, b \in \mathbb{N}$  vrijedi

$$f(a, b) + a + b = f(a, 1) + f(1, b) + ab.$$

- Ako su  $a, b \in \mathbb{N}$  takvi da je neki od brojeva  $a + b$  i  $a + b - 1$  djeljiv prostim brojem  $p > 2$ , onda je i  $f(a, b)$  djeljiv s  $p$ .

### Prvo rješenje.

Uvrstimo li u jednakost iz prvog uvjeta  $(a, b) = (1, 1)$  dobivamo  $f(1, 1) = 1$ .

Pogledajmo jednadžbu iz prvog uvjeta za parove brojeva  $(a, b)$  i  $(a, b + 1)$ , te oduzmimo. Nakon sređivanja, dobivamo

$$f(a, b + 1) - f(a, b) = f(1, b + 1) - f(1, b) + a - 1.$$

Neka je  $p > 2$  prost broj koji dijeli  $a + b$ . Iz drugog uvjeta dobivamo da su oba izraza na lijevoj strani jednakosti djeljiva s  $p$ , pa je zato i desna strana jednakosti djeljiva s  $p$ . Nadalje, kako je  $a + b$  djeljivo s  $p$ , dobivamo

$$p \mid f(1, b + 1) - f(1, b) - b - 1,$$

za svaka dva prirodna broja  $a, b$ , te za svaki prosti broj  $p > 2$  koji dijeli  $a + b$ . Fiksirajmo neki prirodni broj  $b$ . Kako izraz s desne strane ne ovisi o  $a$ , uzimajući razne izbore za  $a$  i razne neparne proste djelitelje od  $a + b$  vidimo da je izraz  $f(1, b + 1) - f(1, b) - b - 1$  djeljiv s beskonačno mnogo prostih brojeva, što je moguće samo ako je taj izraz jednak nuli. Dakle, dobili smo

$$f(1, b + 1) = f(1, b) + b + 1,$$

za svaki prirodni broj  $b$ .

Odavdje vidimo da za svaki prirodni broj  $n$  vrijedi

$$\begin{aligned} f(1, n) &= f(1, n - 1) + n = f(1, n - 2) + (n - 1) + n = \dots \\ &= f(1, 1) + 2 + 3 \dots + n = 1 + 2 + 3 \dots + n = \frac{n(n + 1)}{2}. \end{aligned}$$

Na isti način možemo provesti argument oduzimajući jednadžbu iz prvog uvjeta za parove brojeva  $(a + 1, b)$  i  $(a, b)$ , te dobiti da vrijedi

$$f(n, 1) = \frac{n(n + 1)}{2}$$

za sve prirodne brojeve  $n$ .

Uvrstimo li formule za  $f(1, n)$  i  $f(n, 1)$  u prvi uvjet, dobivamo da za svaka dva prirodna broja  $a, b$  vrijedi

$$f(a, b) = \frac{a(a + 1)}{2} + \frac{b(b + 1)}{2} + ab - a - b = \frac{(a + b)(a + b - 1)}{2} = \binom{a + b}{2}.$$

Ovako definirana funkcija zadovoljava i drugi uvjet, te zaključujemo da je to jedino rješenje.

### Drugo rješenje.

Primijetimo da je

$$\binom{a + b}{2} + a + b = \binom{a + 1}{2} + \binom{1 + b}{2} + ab.$$

Neka je  $f(a, b) = \binom{a + b}{2} + g(a, b)$ , tada je  $g: \mathbb{N} \times \mathbb{N} \rightarrow \mathbb{Z}$  (sa  $\mathbb{Z}$  je označen skup cijelih brojeva) funkcija za koju vrijedi

- Za sve  $a, b \in \mathbb{N}$  je

$$g(a, b) = g(a, 1) + g(1, b).$$

- Ako su  $a, b \in \mathbb{N}$  takvi da je neki od brojeva  $a + b$  i  $a + b - 1$  djeljiv prostim brojem  $p > 2$ , onda je i  $g(a, b)$  djeljiv s  $p$ .

Naime, drugi uvjet vrijedi zato što je  $\binom{a + b}{2} = \frac{(a + b)(a + b - 1)}{2}$ , a taj broj je djeljiv prostim brojem  $p > 2$  ako je neki od brojeva  $a + b$  i  $a + b - 1$  djeljiv s  $p$ , isto kao i broj  $f(a, b)$  pa je onda i  $g(a, b) = f(a, b) - \binom{a + b}{2}$  djeljiv s  $p$ .

Neka je  $p > 2$  prost broj, sve kongruencije nadalje su modulo  $p$  te cijelo vrijeme podrazumijevamo da su  $a$  i  $b$  prirodni brojevi.

Iz prvog uvjeta na funkciju  $g$  zaključujemo da ako je  $g(a, b) \equiv g(1, b) \equiv 0$ , onda je i  $g(a, 1) \equiv 0$  te analogno, ako je  $g(a, b) \equiv g(a, 1) \equiv 0$ , onda je i  $g(1, b) \equiv 0$ .

Iz drugog uvjeta slijedi da je  $g(a, 1) \equiv g(1, b) \equiv 0$  za sve  $a \equiv -1, 0$  te sve  $b \equiv -1, 0$ .

Ako je  $a \equiv 1$  i  $b \equiv 0$ , onda je  $a + b \equiv 1$  i  $1 + b \equiv 1$ , što znači da je  $g(a, b) \equiv g(1, b) \equiv 0$  pa je i  $g(a, 1) \equiv 0$ . Analogno, za  $a \equiv 0$  i  $b \equiv 1$  vidimo da je  $g(1, b) \equiv 0$ , za svaki  $b \equiv 1$ .

Pretpostavimo sada da je  $n$  prirodan broj takav da je  $g(a, 1) \equiv g(1, b) \equiv 0$ , za sve  $a \equiv \pm n$  i za sve  $b \equiv \pm n$ . Pokazali smo da ova tvrdnja vrijedi za  $n = 1$ .

Neka je  $a \equiv n + 1$  i  $b \equiv -n$ , onda je  $a + b \equiv 1$ , što znači da je  $g(a, b) \equiv g(1, b) \equiv 0$  pa je i  $g(a, 1) \equiv 0$ . Analogno, za  $a \equiv -n$  i  $b \equiv n + 1$  vidimo da je  $g(1, b) \equiv 0$ , za svaki  $b \equiv n + 1$ .

Ako je  $a \equiv -(n + 1)$  i  $b \equiv n + 1$ , onda je  $a + b \equiv 0$ , što znači da je  $g(a, b) \equiv g(1, b) \equiv 0$  pa je i  $g(a, 1) \equiv 0$ . Analogno, za  $a \equiv n + 1$  i  $b \equiv -(n + 1)$  vidimo da je  $g(1, b) \equiv 0$ , za svaki  $b \equiv n + 1$ .

Po principu matematičke indukcije zaključujemo da je  $g(a, 1) \equiv g(1, b) \equiv 0$ , za sve  $a$  i  $b$ .

Isti zaključak možemo provesti za bilo koji prost broj  $p > 2$ , stoga su brojevi  $g(a, 1)$  i  $g(1, b)$  djeljivi svakim prostim brojem  $p > 2$ , što znači da je  $g(a, 1) = g(1, b) = 0$ , za sve  $a, b \in \mathbb{N}$ . Odnosno, vrijedi da je  $g(a, b) = g(a, 1) + g(1, b) = 0$ , za sve  $a, b \in \mathbb{N}$ .

Stoga je jedino rješenje funkcija

$$f(a, b) = \binom{a+b}{2},$$

za koju smo već vidjeli da zadovoljava prvi uvjet, a također zadovolja i drugi uvjet.